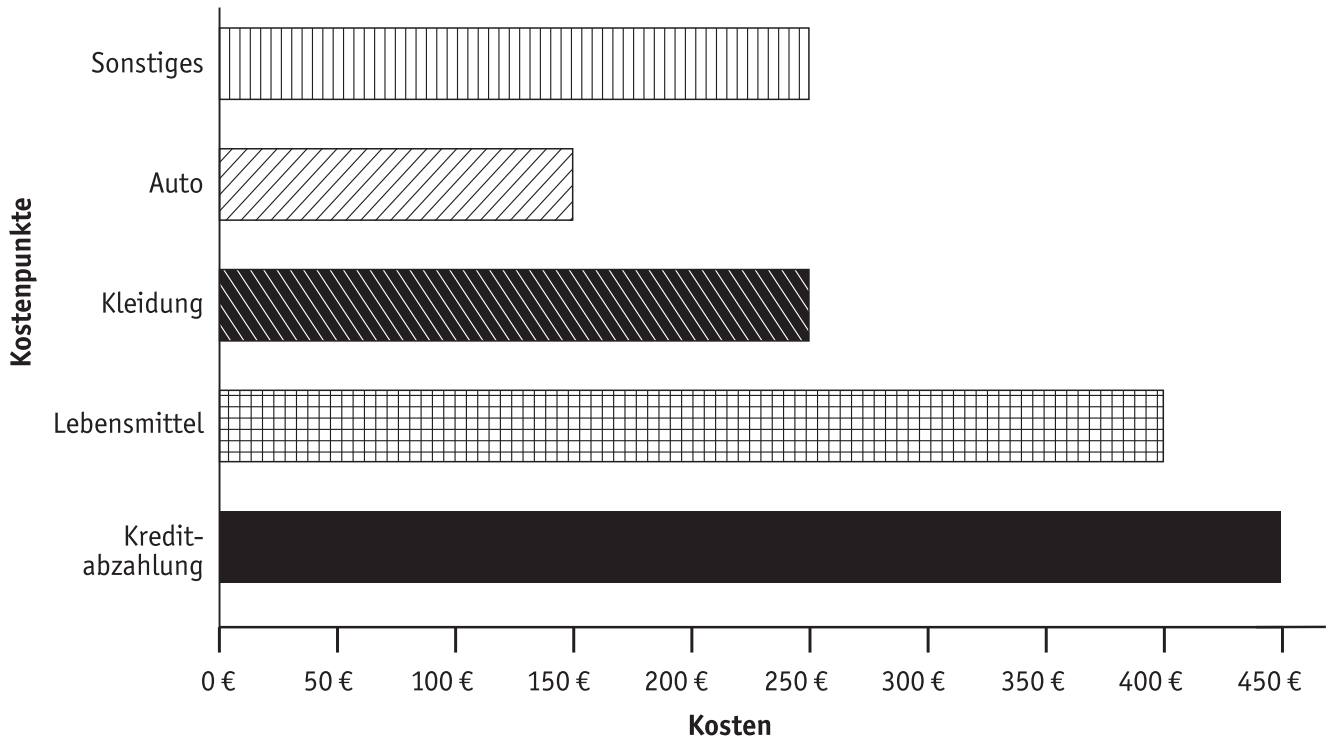




Ausgaben im Diagramm (1)

1 Familie Zimmer hat ihre wichtigsten Monatsausgaben in einem Balkendiagramm dargestellt. Lies die einzelnen Werte heraus und notiere sie in der Tabelle.



Kostenpunkte	Kosten in €

2 Bearbeite folgende Aufgaben.



- Wofür wird am meisten ausgegeben, wofür am wenigsten?
- Wie viel Euro werden im Jahr ausgegeben?
- Wie viel Euro macht das durchschnittlich pro Monat?





Urlaubsplanung (4)

1 Herr und Frau Brauer möchten vom 08.07. bis zum 14.07. nach Menorca fliegen und im Hotel Valentin Son Bou wohnen.
 Berechne die Gesamtkosten für Flug und Doppelzimmer mit Halbpension für beide Personen (ohne Frühbucherrabatt; Preise inklusive Flug).



Hotel Valentin Son Bou ****




Reisetermine	von bis	16.05. 29.05.	30.05. 05.06.	06.06. 12.06.	13.06. 19.06.	20.06. 23.06.	24.06. 07.07.	08.07. 14.07.	15.07. 17.07.	18.07. 20.08.	21.08. 08.09.	09.09. 29.09.	30.09. 13.10.	14.10. 31.10.
Reisedauer 7 Nächte		A	A	A	B	B	C	D	D	D	B	B	A	A
Reisedauer 8 bis 14 Nächte		A	A	B	B	C	C	D	D	D	C	B	A	A
Reisedauer ab 15 Nächte		A	B	B	C	C	C	D	D	D	C	B	A	A

		Belegung	A		B		C		D	
			1 Wo.	2 Wo.	1 Wo.	2 Wo.	1 Wo.	2 Wo.	1 Wo.	2 Wo.
Doppelzimmer (Preis pro Person)	HP	2 – 3	575	845	669	1009	724	1099	754	1159
		1	725	1145	819	1309	874	1399	904	1459
Einzelzimmer	HP		670	1035	764	1199	819	1289	849	1349

2 Herr und Frau Lohmeier wollen im gleichen Hotel wohnen, allerdings vom 30.09. bis zum 06.10. Ermittle auch hier die Kosten.



3 Frau Klaiber möchte in der Zeit vom 24.06. bis zum 07.07. ein Einzelzimmer im Hotel Valentin Son Bou buchen. Berechne die Gesamtkosten.

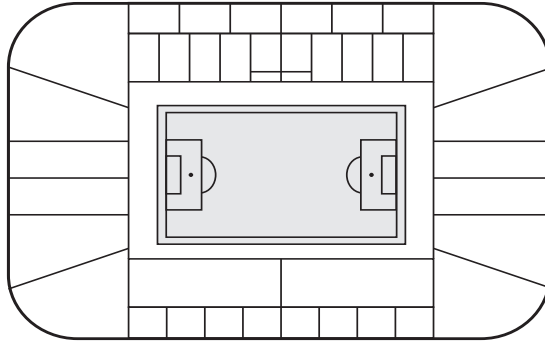




Abonnement (2)

18

- 1** Wie viel Euro spart man bei den einzelnen Plätzen im Stadion pro Saison, wenn man eine Dauerkarte statt Einzelkarten kauft? Wie viel Prozent Ersparnis sind das? Denke daran: Jedes Team der 1. Fußballbundesliga hat 17 Heimspiele!



Kategorie	DK-Preise	EK-Preise
Zentraltribüne	530,00	37,50
Haupttribüne	470,00	33,50
Vortribüne Mitte	280,00	21,00
Seitentribüne	355,00	25,50
Vortribüne Seite	250,00	18,00
Ostgerade	190,00	13,00
Ostgerade erm.	115,00	8,00
Nord	145,00	10,50
Nord erm.	100,00	7,00
Nord Vereinsmitglied	100,00	-
Süd	145,00	10,50
Süd erm.	100,00	7,00
Süd Vereinsmitglied	100,00	-

- 2** Der Manager vom Eishockeyclub Bad Schnauheim möchte Dauerkarten anbieten. Der normale Eintrittspreis beträgt 8,20 € pro Spiel. Der Manager denkt an eine Vergünstigung für Dauerkartenbesitzer von 5 %. Beantworte die Fragen.



- Wie viel Euro kostet dann eine Dauerkarte für eine Saison mit 36 Heimspielen?
- Wie viel Euro spart man, wenn man sich für den Kauf einer Dauerkarte entscheidet?

- 3** Der Einzelpreis für einen Sitzplatz kostet beim 1. FC Grumbach 4,20 €. Für eine Dauerkarte (20 Heimspiele) muss man dagegen 71,40 € bezahlen. Wie viel Prozent spart man durch den Kauf einer Dauerkarte?

